

Họ và tên:


Thứngày.....tháng năm 202

Lớp: 1.....



PHIẾU TỰ HỌC TUẦN 19
MÔN: TOÁN

Nhận xét của giáo viên.....

Bài 1. Số?



Bài 2. Viết số thích hợp vào ô trống:



Bài 3. Viết vào chỗ chấm:

a) Mười một:

b) 12 :

Mười lăm:

16 :



Mười tám:

60 :

Hai mươi:

80 :

Bài 4. Nối:



Bài 5. Nối các số theo thứ tự từ bé đến lớn rồi tô màu:

