

# PHIẾU BÀI TẬP CUỐI TUẦN

## MÔN: TOÁN

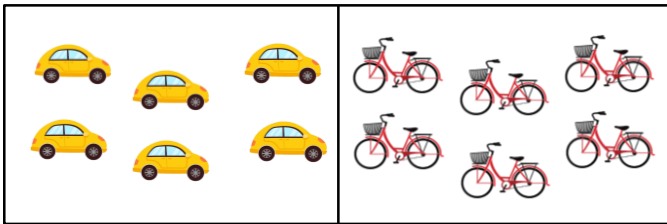
Họ và tên: .....

Lớp: 1A...

Nhận xét của giáo viên:.....

Khoanh vào đáp đúng hoặc làm theo yêu cầu.

Câu 1. Chọn phép so sánh đúng

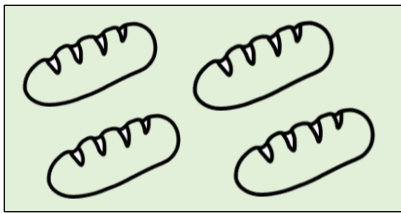


A.  $6 > 5$


B.  $7 < 7$

C.  $6 = 6$

Câu 2. Chọn đáp án có số hộp sữa bằng số bánh mì có trong hình sau.



Câu 3. Cần thêm mấy cái ô để số cái nấm bằng số cái ô?



A. 3 cái ô


B. 2 cái ô

C. 1 cái ô

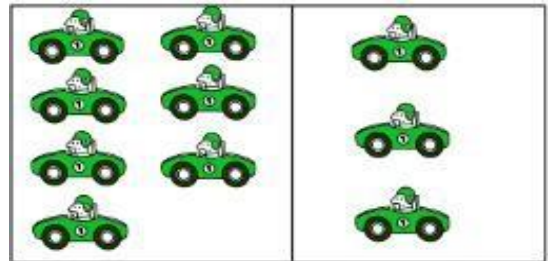

Câu 4. Điền  $>$ ,  $<$ ,  $=$

9  5      8  8      4  8      5  3

**Câu 5. Nối.**



**Câu 6. Viết vào ô trống.**



**Câu 7. Làm cho bằng nhau bằng cách vẽ thêm hoặc gạch bớt:**

a.



b.

