

Họ và tên:

PHIẾU CUỐI TUẦN 17

Lớp: 1A.....

MÔN: TOÁN

Nhận xét của giáo viên:

Bài 1. Số?

$4 + 3 \rightarrow \square$

$2 + 8 \rightarrow \square$

$1 + 8 \rightarrow \square$

$7 + 1 \rightarrow \square$

$5 + 4 \rightarrow \square$

$7 + 3 \rightarrow \square$

Bài 2. Số?

$8 + \dots = 5 + 4$

$2 + \dots = 5 + \dots$

$1 + \dots = \dots + 7$

$9 + \dots = 9$

$6 + \dots > 6$

$3 + \dots > 3 + \dots$

Bài 3. Hãy điền vào chỗ chấm đáp án đúng:

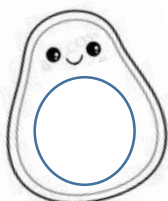


☆ Số bé nhất là:

☆ Số lớn nhất là:

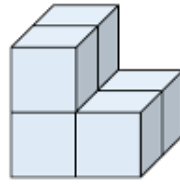
☆ Số lớn hơn 4 nhưng bé hơn 8 là:

☆ Hãy sắp xếp dãy số trên theo thứ tự từ bé đến lớn:

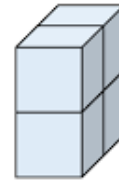


Bài 4. Hình nào có nhiều khối lập phương nhỏ nhất?

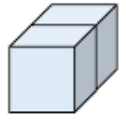
Hình



P




M



N

Bài 5. Viết phép tính thích hợp vào ô trống:



--	--	--	--	--

--	--	--	--	--

Bài 6. Nối các phép tính có kết quả bằng nhau.

$5 + 4$
$9 - 3$
$10 - 2$

$8 - 5 + 6$
$7 + 0 + 1$
$10 - 2 - 2$