

Họ và tên: Lớp: 2...

PHIẾU ÔN TẬP MÔN TOÁN CUỐI KỲ 1

Thời gian 40 phút

I. TRẮC NGHIỆM: Khoanh vào chữ đặt trước câu trả lời đúng: (4 điểm)

Câu 1: (0,5 điểm) Trong phép tính: $73 - 26 = 48$, 26 được gọi là:

- A. Số bị trừ B. Số hạng C. Hiệu D. Số trừ

Câu 2: (0,5 điểm) a. $64 - 29 = ?$

- A. 53 B. 35 C. 45 D. 54

b. Các tổng $12 + 20$, $16 + 9$, $26 + 5$, $26 + 7$ xếp theo thứ tự có kết quả từ bé đến lớn là:

- A. $12 + 20$, $16 + 9$, $26 + 5$, $26 + 7$ B. $16 + 9$, $12 + 20$, $26 + 5$, $26 + 7$
C. $16 + 9$, $26 + 5$, $12 + 20$, $26 + 7$ D. $26 + 5$, $16 + 9$, $12 + 20$, $26 + 7$

Câu 3: (0,5 điểm) $48 - 9 < \dots < 27 + 14$ Số cần điền vào chỗ trống là

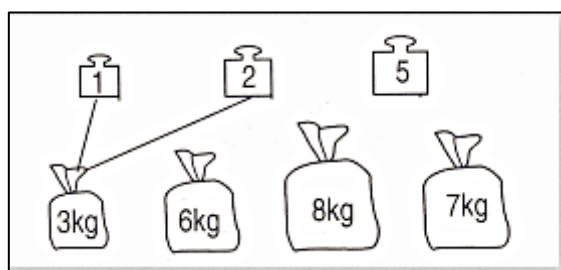
- A. 10 B. 26 C. 40 D. 39

Câu 4: (0,5 điểm) Hiệu là 8, số trừ là 24, số bị trừ là:

- A. 16 B. 33 C. 32 D. 18

Câu 5: (0,5 điểm)

a. Nối các quả cân 1 kg, 2 kg, 5kg với bao chứa gạo 6 kg, 7kg, 8kg (theo mẫu)



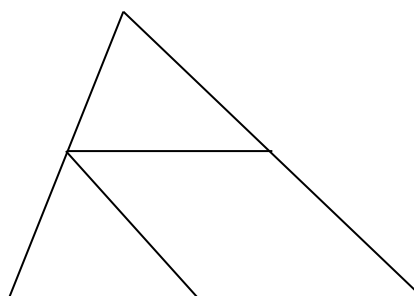
b. $36\text{kg} + 8\text{kg} = \dots\text{kg}$

Số thích hợp điền vào chỗ chấm là:

- A. 34kg B. 34 C. 44 D. 44kg

Câu 6: (0,5 điểm) Trong hình bên có mấy hình tứ giác?

- A. 1 hình tứ giác
B. 2 hình tứ giác
C. 3 hình tứ giác
D. 4 hình tứ giác



II: TỰ LUẬN (6 điểm)

Câu 7: (2 điểm) Tính.

$$30\text{kg} - 20\text{kg} = \dots\dots\dots$$

$$6\text{cm} - 3\text{cm} + 5\text{cm} = \dots\dots\dots$$

$$28\text{kg} - 14\text{kg} = \dots\dots\dots$$

$$16\text{dm} + 4\text{dm} - 10\text{dm} = \dots\dots\dots$$

$$10\text{l} - 4\text{l} = \dots\dots\dots$$

$$24\text{dm} - 4\text{dm} + 6\text{dm} = \dots\dots\dots$$

Câu 8: (2 điểm) Đặt tính rồi tính.

Câu 8: (2 điểm) Đặt tính rồi tính.


$$66 + 24$$

$$36 + 4$$

$$26 + 72$$


$$6 + 18$$

$$29 + 17$$



Câu 9: (2 điểm) Một con ốc sên, giờ thứ nhất bò được 18dm, giờ thứ hai bò được ít hơn giờ thứ nhất 7dm. Hỏi giờ thứ hai con ốc sên đó bò được bao nhiêu đề - xi - mét?

Bài giải



Câu 10: (1 điểm)

a) Số

Cóđiểm ở trong hình tròn.

Cóđiểm ở ngoài hình tròn.

b) **Viết phép tính thích hợp**

Số điểm ở trong hình vuông là:

.....

