

Họ và tên:

Lớp:

PHIẾU LUYỆN TOÁN TUẦN 11

Bài 1. Nối phép tính với số thích hợp:

$$5 - 2$$

1

$$3 - 2$$

2

$$5 - 1$$

3

$$4 - 2$$

4

$$4 - 1$$

$$4 - 3$$

$$5 - 4$$

$$5 - 3$$

Bài 2. Viết phép tính thích hợp:



Bài 3. Tính:

$$\begin{array}{r} 5 \\ - 1 \\ \hline \end{array}$$

.....

$$\begin{array}{r} 5 \\ - 2 \\ \hline \end{array}$$

.....

$$\begin{array}{r} 4 \\ - 4 \\ \hline \end{array}$$

.....

$$\begin{array}{r} 5 \\ - 3 \\ \hline \end{array}$$

.....



$$\begin{array}{r} 5 \\ - 0 \\ \hline \end{array}$$

.....

$$\begin{array}{r} 4 \\ - 1 \\ \hline \end{array}$$

.....


Bài 4. Khoanh vào chữ cái đặt dưới miếng ghép còn thiếu trong hình vuông dưới đây:



A




B



C



D



E

Bài 5. Tính:

$$5 - 2 + 1 = \dots$$

$$2 + 3 - 3 = \dots$$

$$3 - 3 + 5 = \dots$$

$$4 + 0 - 2 = \dots$$

$$5 - 1 + 0 = \dots$$

$$1 + 4 - 2 = \dots$$