

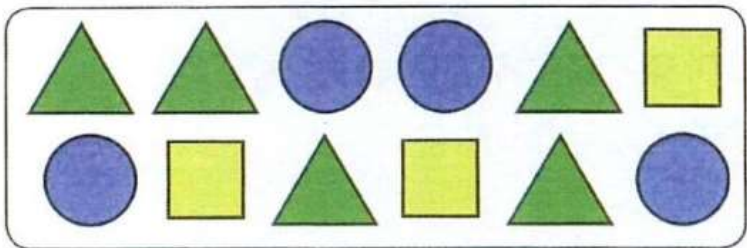
Họ và tên:

Lớp:


PHIẾU LUYỆN TOÁN TUẦN 10

Bài 1. Điền vào chỗ chấm:


Phải bỏ ít nhất hình để chỉ còn lại đúng một loại hình.



Bài 2. Viết phép tính thích hợp:



--	--	--	--	--

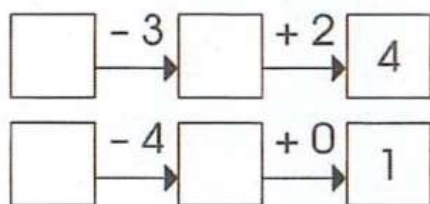
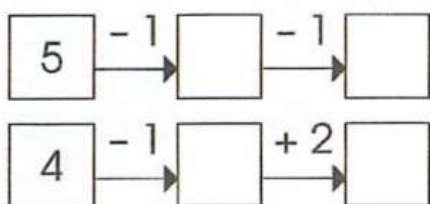


--	--	--	--	--

Bài 3. Tính:

$3 - 2 = \dots$ $4 - 1 = \dots$ $4 - 2 = \dots$ $2 + 2 = \dots$ $2 - 1 = \dots$
 $4 - 3 = \dots$ $1 + 2 = \dots$ $3 + 2 = \dots$ $3 - 1 = \dots$ $3 + 2 = \dots$

Bài 4. Điền số thích hợp vào ô trống:



Bài 5. Nối hai phép tính có cùng kết quả (theo mẫu):

$5 - 2$	$5 - 1$	$3 - 3$	$3 - 2$
$4 - 4$	$4 - 1$	$4 - 3$	$4 + 0$

(A line connects $5 - 2$ to $4 - 1$)