

Thứ ngày tháng 10 năm 202

Họ và tên:

Lớp : 1.....

PHIẾU TỰ HỌC TUẦN 8
MÔN TOÁN

Nhận xét của giáo viên:

Bài 1: Cho các số : 0; 7; 10; 4; 8; 3

a) Sắp xếp các số trên theo thứ tự từ bé đến lớn:.....

b) Sắp xếp các số trên theo thứ tự từ lớn đến bé:.....

c) Số lớn nhất trong các số trên là:

Bài 2: Điền số thích hợp vào ô trống:

$$3 > \square > \square$$

$$6 < \square < 8$$



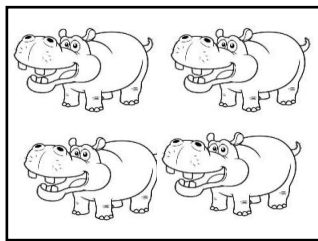
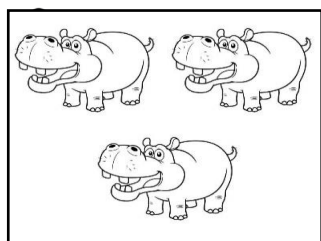




$$\square > 4$$

$$\square < 2 < \square$$

$$9 = \square$$

$$10 > \square > 7$$

Bài 3: Số?



Bài 4: Số?

Có.....

Có.....

Có.....