

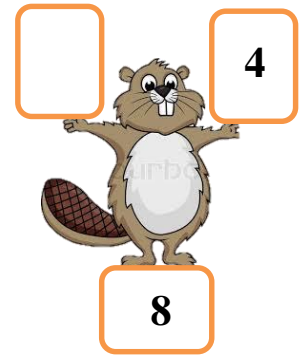

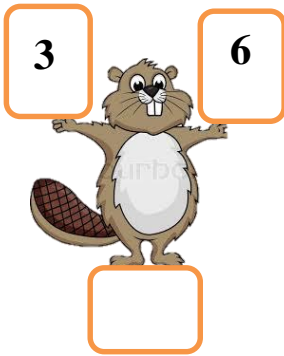
PHIẾU CUỐI TUẦN – TUẦN 5
MÔN: TOÁN

Họ và tên.....

Lớp:1.....

Nhận xét của giáo viên.....
.....

Bài 1. Điền số thích hợp vào ô trống:



Bài 2. $>$; $<$, $=$?

9 7

8 4

6 9

5 8

1 1

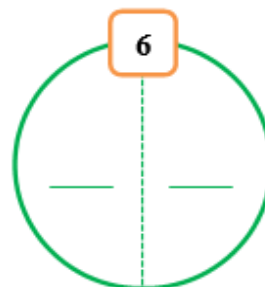
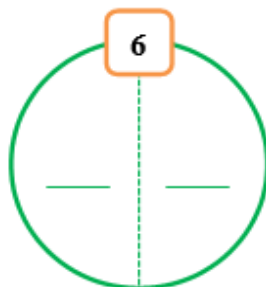
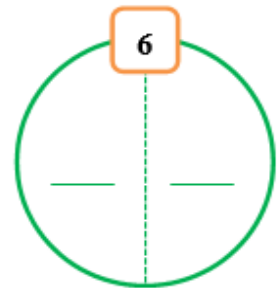
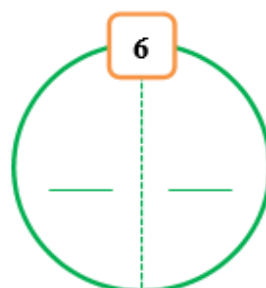
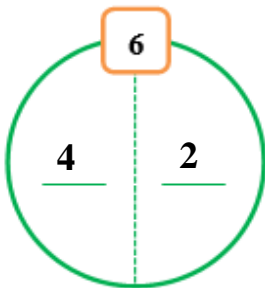
8 8

2 6


3 3

4 10

Bài 3. Điền số (theo mẫu)?



Bài 4. Thêm hoặc gạch bớt số chuối để:
Số quả chuối ít hơn số khỉ.



Bài 5. Nói (theo mẫu):

