



Họ và tên học sinh.....Lớp: 1A.....

PHIẾU LUYỆN CUỐI TUẦN 7 MÔN TOÁN



I. PHẦN TRẮC NGHIỆM:

Khoanh vào chữ đặt trước câu trả lời đúng



Trong các số **9, 6, 8, 4, 3** số lớn nhất là:

- a. 9 b. 3 c. 6 d. 8 e. 4



Số thích hợp để điền vào chỗ trống trong dãy số **1, ..., ..., 4** là:

- a. 2, 4 b. 2, 3 c. 3, 4 d. 1, 2



Nối (theo mẫu)



$2 + 4$

$5 + 1$

$2 + 3$

$4 + 1$

$0 + 5$

$3 + 2$

$5 + 0$

$4 + 2$

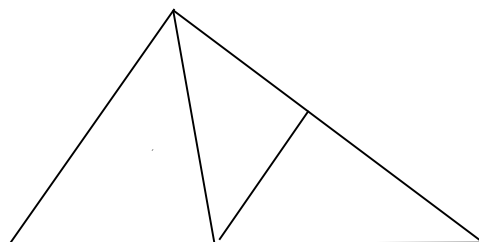
$1 + 5$

$1 + 4$



Hình bên có :

- a. 5 hình tam giác
b. 2 hình tam giác
c. 4 hình tam giác
d. 3 hình tam giác





TỰ LUẬN:

1 Tính

$2 + 2 = \dots\dots\dots$

$2 + 3 + 1 = \dots\dots\dots$

.....

$5 + 1 = \dots\dots\dots$

$1 + 0 + 2 = \dots\dots\dots$

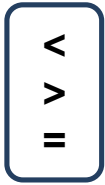
.....

$3 + 3 = \dots\dots\dots$

$4 + 2 + 0 = \dots\dots\dots$

.....

2



$5 + 1 \square 7$

$3 + 3 \square 9$

$4 + 2 \square 9$

$6 + 0 \square 6$

3

Số ?

$4 + \square = 4$


$\square + 6 = 6$

$3 + \square = 5$

$\square + 2 = 3$

4

Viết phép tính thích hợp



--	--	--	--	--

KHỐI 1 – TRƯỜNG TIỂU HỌC KIM ĐỒNG
