

Họ và tên: ..... Lớp: 2A...









## PHIẾU LUYỆN TOÁN TUẦN 7

Thứ.....ngày.....tháng.....năm 202...

### I. TRẮC NGHIỆM:

Khoanh tròn vào chữ cái trước câu trả lời đúng hoặc làm theo các yêu cầu:

**Câu 1: Đánh dấu x vào ô tô nhằm bãi đỗ.**

Bãi đỗ xe số 7				Bãi đỗ xe số 9			
							
<input type="checkbox"/> 12 - 7	<input type="checkbox"/> 13 - 5	<input type="checkbox"/> 13 - 6	<input type="checkbox"/> 16 - 9	<input type="checkbox"/> 14 - 5	<input type="checkbox"/> 13 - 4	<input type="checkbox"/> 15 - 6	<input type="checkbox"/> 18 - 9

**Câu 2: Đúng ghi Đ, sai ghi S:**

A.  $8 + 8 = 16$

B.  $15 \text{ cm} - 8 \text{ cm} < 4 \text{ cm}$

C.  $10 \text{ cm} - 1 = 9 \text{ cm}$

D.  $6 + 7 > 18 - 9$

**Câu 3: Trong phép trừ có hiệu bằng 8, nếu giữ nguyên số trừ và giảm số bị trừ đi 5 đơn vị thì hiệu mới là:**

A. 11

B. 9

C. 8

D. 3

**Câu 4: Tìm nhà cho thỏ:**

